




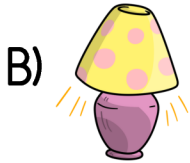
1. Alfabemizin ilk harf aşağıdakilerden hangisidir?

A) E B) A C) Z

2. Aşağıdaki varlıklardan hangisinin adındaki harf sayısı diğerlerinden fazladır?



3. Aşağıdaki varlıklardan hangisinin adında " p " harfi yoktur?



4. Aşağıdaki kelimelerden hangisi hecelerine yanlış ayrılmıştır?

A) çay - dan - lık  
B) te - le - fon  
C) oy - un - cak

5. Aşağıdaki kelimelerden hangisi tek hecelidir?

A) tren B) uçak  
C) gemi



6. Görseldeki varlığın adı kaç hecelidir?


A) 2 B) 3 C) 4



7. Aşağıdakilerden hangisi ülkemizin özgürlük ve bağımsızlık sembollerinden birisi değildir?

- A) Türk bayrağı
- B) İstiklâl Marşı
- C) Çocuk şiirleri

8. Aşağıdakilerden hangisi ülkemizin bayrağıdır?

- A) 
- B) 
- C) 



9. Atatürk ' ün mezarının bulunduğu Anıtkabir hangi şehrimizdedir?

- A) Amasya
- B) İstanbul
- C) Ankara

10. Türk bayrağının şekli aşağıdakilerden hangisidir?

- A) dikdörtgen
- B) kare
- C) üçgen

11. İstiklâl Marşı'mızın şairi kimdir?


- A) Mustafa Kemal Atatürk
- B) Mehmet Akif Ersoy
- C) Hasan Ali Yücel

12. İstiklâl Marşı kaç kıtadan oluşmaktadır?

- A) 2
- B) 8
- C) 10

13. İstiklâl Marşı'mızın kaç kıtası bestelenmiştir?

- A) 2
- B) 3
- C) 4



14. Yukarıdaki örüntüde boş bırakılan yere hangi şekil gelmelidir?

- A)  B)  C) 



15. Yukarıdaki tabağa 6 tane daha çilek eklenirse toplam çilek sayısı kaç olur?

- A) 9 B) 10 C) 11

16. Aşağıdaki işlemlerden hangisinin sonucu yanlış yazılmıştır?

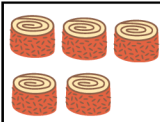
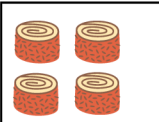



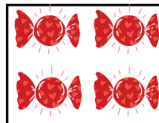
- A)  $8 + 5 = 13$   
B)  $6 + 9 = 14$   
C)  $4 + 7 = 11$

17. Aşağıdaki toplama işlemlerinden hangisinin sonucu diğerlerinden farklıdır?

- A)  $7 + 3$  B)  $6 + 4$   
C)  $9 + 2$





$$5 + 4 =$$

18. Yukarıdaki toplama işlemi hangi seçenekte doğru modellenmiştir?






- A)  +   
B)  +   
C)  + 

19. Aşağıdakilerden hangisi toplama işlemi ile ilgili bir terim değildir?

- A) toplanan B) toplam  
C) fark

2	4	5	8
			

20. Görseldeki her meyve bir sayıyı göstermektedir. Buna göre aşağıdaki toplama işlemlerinden hangisinin sonucu daha büyüktür?

- A)  +  B)  +   
C)  + 